

Aufnahmetest Kader

Name: _____

Jugendschachbund Sachsen

04.10.2016


Der folgende Aufnahmetest besteht aus 4 Teilen. Insgesamt können 70 Punkte erreicht werden. Zur Beantwortung der Fragen stehen 90 Minuten zu Verfügung. Es sind keine Hilfsmittel zugelassen.

Viel Erfolg!

Vom Korrektor auszufüllen:

Teil	Punkte max.	Erreichte Punkte	Punkte min.	check
Eröffnung	15		5	
Taktik	20		7	
Strategie	15		5	
Endspiel	20		7	
Gesamt	70		42	
Ergebnis:			Bestanden	Nicht bestanden

Bereich 1: Eröffnung


1	<p>Was sind die 3 Hauptziele der Eröffnung?</p> <p>1. _____</p> <p>2. _____</p> <p>3. _____</p>	3
2	<p>Was kennzeichnet eine offene Eröffnung?</p> <p>_____</p> <p>Nenne ein Beispiel für eine offene Eröffnung und die Zugfolge, wie man diese erreicht!</p> <p>_____</p> <p>_____</p> <p>_____</p>	3
3	<p>Nenne 3 weitere Eröffnungen und gib jeweils eine kurze Zugfolge (wie man sie erreicht) an!</p>	3
4	<p>Welche Eröffnung spielst du häufig? : _____</p> <div style="display: flex; align-items: flex-start;"> <div style="margin-right: 20px;">  </div> <div> <p>Gib zu dieser eine Haupt- und zwei Nebenvarianten (mindestens bis zum 6. Zug) an. Als Hilfestellung ist hier die Grundstellung abgebildet.</p> </div> </div>	6

Bereich 2: Taktik


1	<p>Was ist eine Kombination?</p> <hr style="border: 0; border-top: 1px solid black; margin: 5px 0;"/> <hr style="border: 0; border-top: 1px solid black; margin: 5px 0;"/> <hr style="border: 0; border-top: 1px solid black; margin: 5px 0;"/> <p>Nenne mindestens zwei dir bekannte Zwangsmittel im Schach!</p> <hr style="border: 0; border-top: 1px solid black; margin: 5px 0;"/> <hr style="border: 0; border-top: 1px solid black; margin: 5px 0;"/> <hr style="border: 0; border-top: 1px solid black; margin: 5px 0;"/>	2																																																																																																																																																																																																								
2	<p>Verteidigungsmechanismen</p> <p>Was droht? Wie kann man die Drohung abwehren?</p>	3																																																																																																																																																																																																								
<p>Schwarz am Zug.</p> <table style="margin: 5px auto; border-collapse: collapse;"> <tr> <td></td><td>a</td><td>b</td><td>c</td><td>d</td><td>e</td><td>f</td><td>g</td><td>h</td><td></td> </tr> <tr> <td>8</td><td></td><td></td><td></td><td></td><td></td><td>♔</td><td></td><td></td><td>8</td> </tr> <tr> <td>7</td><td></td><td></td><td>♕</td><td></td><td>♟</td><td></td><td>♟</td><td></td><td>7</td> </tr> <tr> <td>6</td><td></td><td></td><td></td><td></td><td>♟</td><td></td><td>♖</td><td></td><td>6</td> </tr> <tr> <td>5</td><td></td><td></td><td></td><td></td><td></td><td></td><td></td><td></td><td>5</td> </tr> <tr> <td>4</td><td>♔</td><td></td><td></td><td>♟</td><td></td><td></td><td></td><td></td><td>4</td> </tr> <tr> <td>3</td><td></td><td>♖</td><td></td><td>♖</td><td>♜</td><td></td><td>♖</td><td></td><td>3</td> </tr> <tr> <td>2</td><td>♖</td><td></td><td></td><td></td><td></td><td></td><td></td><td></td><td>2</td> </tr> <tr> <td>1</td><td></td><td></td><td></td><td></td><td></td><td></td><td></td><td>♔</td><td>1</td> </tr> <tr> <td></td><td>a</td><td>b</td><td>c</td><td>d</td><td>e</td><td>f</td><td>g</td><td>h</td><td></td> </tr> </table> <p>Drohung: Abwehr:</p>		a	b	c	d	e	f	g	h		8						♔			8	7			♕		♟		♟		7	6					♟		♖		6	5									5	4	♔			♟					4	3		♖		♖	♜		♖		3	2	♖								2	1								♔	1		a	b	c	d	e	f	g	h		<p>Weiß am Zug.</p> <table style="margin: 5px auto; border-collapse: collapse;"> <tr> <td></td><td>a</td><td>b</td><td>c</td><td>d</td><td>e</td><td>f</td><td>g</td><td>h</td><td></td> </tr> <tr> <td>8</td><td></td><td></td><td></td><td></td><td></td><td>♔</td><td></td><td></td><td>8</td> </tr> <tr> <td>7</td><td>♟</td><td>♟</td><td></td><td></td><td></td><td></td><td></td><td></td><td>7</td> </tr> <tr> <td>6</td><td></td><td>♞</td><td></td><td>♜</td><td></td><td></td><td></td><td></td><td>6</td> </tr> <tr> <td>5</td><td></td><td></td><td></td><td>♟</td><td></td><td>♖</td><td></td><td>♞</td><td>5</td> </tr> <tr> <td>4</td><td></td><td></td><td></td><td>♟</td><td>♖</td><td>♞</td><td></td><td>♞</td><td>4</td> </tr> <tr> <td>3</td><td>♖</td><td></td><td>♖</td><td></td><td></td><td></td><td></td><td>♖</td><td>3</td> </tr> <tr> <td>2</td><td></td><td></td><td>♖</td><td></td><td>♔</td><td></td><td></td><td>♖</td><td>2</td> </tr> <tr> <td>1</td><td></td><td>♜</td><td></td><td></td><td></td><td></td><td></td><td></td><td>1</td> </tr> <tr> <td></td><td>a</td><td>b</td><td>c</td><td>d</td><td>e</td><td>f</td><td>g</td><td>h</td><td></td> </tr> </table> <p>Drohung: Abwehr:</p>		a	b	c	d	e	f	g	h		8						♔			8	7	♟	♟							7	6		♞		♜					6	5				♟		♖		♞	5	4				♟	♖	♞		♞	4	3	♖		♖					♖	3	2			♖		♔			♖	2	1		♜							1		a	b	c	d	e	f	g	h		
	a	b	c	d	e	f	g	h																																																																																																																																																																																																		
8						♔			8																																																																																																																																																																																																	
7			♕		♟		♟		7																																																																																																																																																																																																	
6					♟		♖		6																																																																																																																																																																																																	
5									5																																																																																																																																																																																																	
4	♔			♟					4																																																																																																																																																																																																	
3		♖		♖	♜		♖		3																																																																																																																																																																																																	
2	♖								2																																																																																																																																																																																																	
1								♔	1																																																																																																																																																																																																	
	a	b	c	d	e	f	g	h																																																																																																																																																																																																		
	a	b	c	d	e	f	g	h																																																																																																																																																																																																		
8						♔			8																																																																																																																																																																																																	
7	♟	♟							7																																																																																																																																																																																																	
6		♞		♜					6																																																																																																																																																																																																	
5				♟		♖		♞	5																																																																																																																																																																																																	
4				♟	♖	♞		♞	4																																																																																																																																																																																																	
3	♖		♖					♖	3																																																																																																																																																																																																	
2			♖		♔			♖	2																																																																																																																																																																																																	
1		♜							1																																																																																																																																																																																																	
	a	b	c	d	e	f	g	h																																																																																																																																																																																																		

3 Taktische Motive

Weiß am Zug. Notiere die Zugfolge und wichtige Nebenvarianten bis zum Gewinn. Welches taktische Motiv wurde verwendet?




Motiv:




Motiv:

6



Motiv:





Motiv:

6

4 Finde die beste Fortsetzung für Schwarz am Zug.

3



Bereich 3: Stellungsbewertung und Plan

1	<p>Anhand welcher sieben Kriterien bewertet man eine Stellung im Allgemeinen?</p> <hr/> <hr/> <hr/> <hr/> <hr/> <hr/> <hr/>	3
2	<p>Linien</p>	2
<div style="display: flex; align-items: flex-start;"> <div style="flex: 1;"> <p>The chessboard diagram shows a position with the following pieces: White: King on e2, Rook on a1, Pawns on b2, c3, d3, e3, f2, g2, h2. Black: Rook on a8, King on g8, Pawns on b7, c5, d6, e5, f7, g7, h7.</p> </div> <div style="flex: 2; padding-left: 10px;"> <p>Weiß am Zug.</p> <p>Wie heißt die Linie, die Weiß hier bilden kann?</p> <hr style="width: 80%; margin-left: 0;"/> <p>Wie geht Weiß dabei vor (Zugfolge)?</p> </div> </div>		


3 Läufer und Springer

4

Welche Eigenschaften hat der Läufer, welche der Springer? Wer ist wann besser?

Läufer: _____

Springer: _____



Weiß am Zug.

4





Schätze die Stellung ein! Gehe dabei besonders auf die Besonderheiten von Springer und Läufer ein.



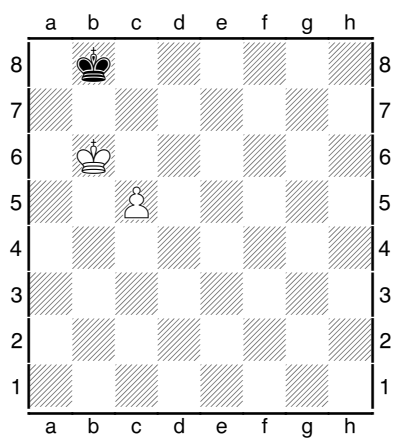



Nutze die Rückseite, falls der Platz nicht ausreicht.

Finde einen Plan für Weiß! Wie kann er diesen umsetzen (Zugfolge)?

2

Bereich 4: Endspiel

1	<p>Bauernendspiele</p> <p>Kreuze die richtige Antwort an. Es ist jeweils genau eine Antwort richtig.</p>	
	<div style="display: flex; justify-content: space-between;"> <div style="width: 48%;">  <p>Schwarz am Zug hat um Remis zu erreichen</p> <p>a. 2 erste Züge b. nur 1 Zug c. keine Möglichkeit</p> </div> <div style="width: 48%;">  <p>Weiß am Zug</p> <p>a. Weiß gewinnt, weil sein König vor den Bauern gelangt b. Weiß kann nicht gewinnen</p> </div> </div>	2
	<div style="display: flex; justify-content: space-between;"> <div style="width: 48%;">  <p>Weiß am Zug</p> <p>a. Weiß gewinnt am einfachsten mit 1.b6 b. Weiß gewinnt, aber nicht mit 1.b6 c. Die Stellung ist remis</p> </div> <div style="width: 48%;">  <p>Schwarz am Zug</p> <p>a. Schwarz verliert b. Schwarz hält gerade noch remis c. Schwarz gewinnt sehr schnell</p> </div> </div>	2

	Markiere die Quadrate aller Freibauern ! Wie geht die Partie aus mit Weiß/ Schwarz am Zug?	6
	<div style="display: flex; justify-content: space-between;"> <div style="width: 48%;">  <p>Weiß: Schwarz:</p> </div> <div style="width: 48%;">  <p>Weiß: Schwarz:</p> </div> </div>	
	Markiere die Schlüsselfelder aller Bauern! Wie endet die Partie mit Weiß/ Schwarz am Zug?	6
	<div style="display: flex; justify-content: space-between;"> <div style="width: 48%;">  <p>Weiß: Schwarz:</p> </div> <div style="width: 48%;">  <p>Weiß: Schwarz:</p> </div> </div>	
2	Turmendspiele Gib jeweils die bestmögliche Zugfolge und das Ergebnis der Partie an.	4
	<div style="display: flex; justify-content: space-between;"> <div style="width: 48%;"> <p>Weiß am Zug.</p>  </div> <div style="width: 48%;"> <p>Schwarz am Zug.</p>  </div> </div>	

Zusatz: Wie heißt die Stellung rechts im Diagramm? : _____ (+1)